



11/MIV/M-2024-01

Candidate's Roll Number

--	--	--	--	--	--

Booklet Series

I

Serial No.

--

Question Booklet

LANGUAGE, GENERAL STUDIES AND ENGLISH

Time Allowed : 2:30 Hours

Maximum Marks : 150

Read the following instructions carefully before you begin to answer the questions.

IMPORTANT INSTRUCTIONS

1. This Question Booklet is divided into three Parts — Part – I, Part – II and Part – III. Part – I contains questions of **Language (Qualifying)**, Part – II contains questions of **General Studies** and Part – III contains questions of **English**.
2. **Part – I, Language (Qualifying)** consists of Question Nos. **1 to 30**. In **Part – I, English Language** consists of Question Nos. **E-1 to E-8** (common for all), **Hindi Language** consists of Question Nos. **H-9 to H-30**, **Urdu Language** consists of Question Nos. **U-9 to U-30** and **Bengali Language** consists of Question Nos. **B-9 to B-30** (Students are required to choose the questions from any one language out of three languages). **Part – II** consists of Question Nos. **31 to 70** (the questions and their responses are printed in English and Hindi versions both) and **Part – III** consists of Question Nos. **71 to 150**.
3. **All** questions carry equal marks.
4. An Answer Sheet has been supplied inside the question booklet to mark the answers. **You must write your Roll Number and encode it and write other particulars in the space provided in the Answer Sheet, failing which your Answer Sheet will not be evaluated.**
5. **Immediately after commencement of the examination, you should check up your Question Booklet and attached answer sheet and ensure that the Question Booklet Series is printed on the top right-hand corner of the Booklet and the series encoded in answer sheet are same. Also please check that the Booklet contains 40 printed pages including one page (Page No. 39) for Rough Work and no page or question is missing or unprinted or torn or repeated or question booklet and answer sheet have different series. If you find any defect in this Booklet and attached answer sheet, get it replaced immediately by a complete Booklet with OMR sheet of the same series.**
6. You must write your Roll Number in the space provided on the top of this page. Do not write anything else on the Question Booklet.
7. Each question comprises of **five** responses — (A), (B), (C), (D) and (E). You are to select **ONLY ONE** correct response and mark it in your Answer Sheet. Your total marks will depend on the number of correct responses marked by you in the Answer Sheet.
8. In the Answer Sheet, there are **five** circles — (A), (B), (C), (D) and (E) against each question. To answer the questions, you are to mark with Black/Blue ink ballpoint pen **ONLY ONE** circle of your choice for each question. Select only one response for each question and mark it in your Answer Sheet. If you mark more than one answer for one question, the answer will be treated as wrong. **Use Black/Blue ink ballpoint pen only to mark the answer in the Answer Sheet. Any erasure or change is not allowed.**
9. If there is any sort of mistake either of printing or of factual nature, then out of English and Hindi versions of the questions, the English version will be treated as standard.
10. You should not remove or tear off any sheet from the Question Booklet. You are not allowed to take this Question Booklet and the Answer Sheet out of the Examination Hall during the examination. **After the examination has concluded, you must hand over your Answer Sheet to the Invigilator.** Thereafter, you are permitted to take away the Question Booklet with you.
11. Failure to comply with any of the above instructions will render you liable to such action or penalty as the Commission may decide at their discretion.
12. Candidates must assure before leaving the Examination Hall that their Answer Sheets will be kept in Self Adhesive LDPE Bag and completely packed/sealed in their presence.

ध्यान दें : अनुदेशों का हिन्दी रूपान्तर इस पुस्तिका के अन्तिम पृष्ठ पर छपा है ।



PART – I
(English Language)

Directions (Q. Nos. E-1 to E-5) : Read the passage given below and answer the questions that follow.

Be like a flower. One must try to become like a flower : open, frank, equal, generous and kind. So you know what it means ? A flower is open to all that surrounds it : nature, light, the rays of the sun, the wind etc. It exerts a spontaneous influence on all that is around it. It radiates joy and beauty. It is frank. It hides nothing of its beauty lets its fragrance flow frankly out of itself. What is within and what is in its depths, it lets it come out so that everyone can see it. It is equal : it has no preferences. Everyone can enjoy its beauty and its perfume without rivalry. It is equal and the same for everybody. There is no difference or anything whatsoever. Then generous without reserve or restriction, it gives away the mysterious beauty and the very own perfume of nature. It sacrifices itself entirely for our pleasure, even its life sacrifices to express this beauty and the secret of the things gathered within itself. And then, kind : it has such a tenderness, it is so sweet, so close to us, so loving. Its presence fills us with joy. It is always cheerful and happy. Happy is he who can exchange his qualities with real qualities of the flowers.

- E-1.** A flower is open to all because
- (A) It radiates joy
 - (B) It influences all
 - (C) It spreads its beauty to all
 - (D) More than one of the above
 - (E) None of the above

- E-2.** The author here talks about
- (A) Lotus flower
 - (B) Rose flower
 - (C) Lily flower
 - (D) More than one of the above
 - (E) None of the above

- E-3.** A flower is compared
- (A) With human beings
 - (B) With all living things
 - (C) With girls
 - (D) More than one of the above
 - (E) None of the above

- E-4.** A spontaneous influence means
- (A) A slow influence
 - (B) Naturally created influence
 - (C) A quicker influence
 - (D) More than one of the above
 - (E) None of the above

- E-5.** The refined qualities of a flower are
- (A) Generosity and kindness
 - (B) Fragrance and beauty
 - (C) Frankness and honesty
 - (D) More than one of the above
 - (E) None of the above

Directions (Q. Nos. E-6 and E-7) : Fill in the blanks with suitable articles like ‘a’, ‘an’ and ‘the’ :

- E-6.** He saw _____ elephant at the Zoo.
- (A) an
 - (B) a
 - (C) the
 - (D) More than one of the above
 - (E) None of the above

- E-7.** _____ good education is important.
- (A) An
 - (B) A
 - (C) The
 - (D) More than one of the above
 - (E) None of the above

- E-8.** If 21 March is Wednesday, what will be 25th March ?
- (A) Friday
 - (B) Thursday
 - (C) Sunday
 - (D) More than one of the above
 - (E) None of the above



(Hindi Language)

निर्देश (प्रश्न संख्या H-9 से H-18 तक) : निम्नलिखित अपठित गद्यांशों को ध्यानपूर्वक पढ़िए और दिए गए प्रश्नों के सही विकल्प चुनकर उत्तर-पत्रक में चिह्नित कीजिए।



गद्यांश - 1

आदर्श व्यक्ति सद्कर्मों में आस्था रखता है। इसी में वह अपने जीवन की सार्थकता समझता है। उसके जीवन का प्रत्येक क्षण सद्कर्म में ही व्यतीत होता है। विश्राम और विनोद के लिए उसके पास निश्चित समय रहता है। वह शेष समय समाज के उत्थान में लगाता है। उसके जीवन में आलस्य के लिए कोई स्थान नहीं होता। विपत्तियों में भी वह अपने चरित्र का सच्चा परिचय देता है। धैर्यरूपी कुदाल से वह बड़े-बड़े संकटरूपी पर्वतों को निर्मूल कर देता है। उसकी कार्यकुशलता देखकर लोग आश्चर्यविमूढ़ हो जाते हैं। वह परिस्थितियों का दास नहीं होता, परिस्थितियाँ उसकी दासी होती हैं। इस अर्थ में उसका चरित्र प्रशंसनीय होता है कि वह धैर्य से अपने सारे संकट दूर करता है।

H-9. किस अर्थ में आदर्श व्यक्ति का चरित्र प्रशंसनीय होता है ?



- (A) वह ज्ञान से संकट को दूर करता है
- (B) वह धैर्य से संकट को दूर करता है
- (C) वह बहादुरी से संकटों का सामना करता है
- (D) उपर्युक्त में से एक से अधिक
- (E) उपर्युक्त में से कोई नहीं

H-10. आदर्श व्यक्ति के जीवन में किसके लिए स्थान नहीं होता ?



- (A) मनोविनोद के लिए
- (B) विश्राम के लिए
- (C) आलस्य के लिए
- (D) उपर्युक्त में से एक से अधिक
- (E) उपर्युक्त में से कोई नहीं

H-11. प्रस्तुत गद्यांश का उपयुक्त शीर्षक है

- (A) सद्कर्म
- (B) कर्मशीलता
- (C) आदर्श व्यक्ति
- (D) उपर्युक्त में से एक से अधिक
- (E) उपर्युक्त में से कोई नहीं

H-12. लोग आश्चर्यविमूढ़ क्यों होते हैं ?

- (A) आदर्श व्यक्ति का साहस देखकर
- (B) आदर्श व्यक्ति का ज्ञान देखकर
- (C) आदर्श व्यक्ति की कार्यकुशलता देखकर
- (D) उपर्युक्त में से एक से अधिक
- (E) उपर्युक्त में से कोई नहीं

H-13. आदर्श व्यक्ति किसमें आस्था रखता है ?

- (A) सद्व्यवहार में
- (B) सद्कर्म में
- (C) प्रेम में
- (D) उपर्युक्त में से एक से अधिक
- (E) उपर्युक्त में से कोई नहीं





गद्यांश - 2

स्वास्थ्य और चरित्र एक-दूसरे से घनिष्ठता के साथ जुड़े होते हैं। वही व्यक्ति स्वस्थ होता है जिसके चरित्र में आत्मसंयम हो। चारित्रिक दूषण व्यक्ति के पतन का कारण होता है। आत्मसंयम को चरित्र की सीढ़ी कहा गया है। इसी सीढ़ी के माध्यम से कोई व्यक्ति उत्तरोत्तर विकास की यात्रा तय करता है। व्यायाम को स्वास्थ्य का सहोदर कहा गया है। यही किसी व्यक्ति की काया और चित्त को निर्मल और नीरुज (रोगरहित) बनाता है। चरित्र की रक्षा का अर्थ है - काया और चित्त को विभिन्न दूषणों से मुक्त करना।

H-14. स्वास्थ्य का सहोदर है

- (A) औषधि
(B) पौष्टिक भोजन
(C) व्यायाम
(D) उपर्युक्त में से एक से अधिक
(E) उपर्युक्त में से कोई नहीं

H-15. स्वस्थ व्यक्ति का लक्षण है

- (A) आत्मसंयम
(B) अपार संपदा
(C) अत्यधिक बल
(D) उपर्युक्त में से एक से अधिक
(E) उपर्युक्त में से कोई नहीं

H-16. किसी व्यक्ति का विकास किस पर आश्रित है ?

- (A) समुचित अध्ययन
(B) सत्संगति
(C) आत्मसंयम
(D) उपर्युक्त में से एक से अधिक
(E) उपर्युक्त में से कोई नहीं

H-17. व्यक्ति के पतन का कारण है

- (A) अत्यधिक शक्ति
(B) चारित्रिक दोष
(C) अत्यधिक विभूति
(D) उपर्युक्त में से एक से अधिक
(E) उपर्युक्त में से कोई नहीं



H-18. विभिन्न दूषणों से मुक्त होने का अर्थ है

- (A) चरित्र की रक्षा
(B) परिवार की रक्षा
(C) धन की रक्षा
(D) उपर्युक्त में से एक से अधिक
(E) उपर्युक्त में से कोई नहीं

H-19. शुद्ध वाक्य है

- (A) वह ने ही कहा है।
(B) ताजा गाय का दूध पीना चाहिए।
(C) वह किताब लाया।
(D) उपर्युक्त में से एक से अधिक
(E) उपर्युक्त में से कोई नहीं

H-20. 'श्यामसुंदर' में समास है

- (A) कर्मधारय
(B) तत्पुरुष
(C) द्विगु
(D) उपर्युक्त में से एक से अधिक
(E) उपर्युक्त में से कोई नहीं



H-21. भाववाचक संज्ञा है

- (A) अरविंद
(B) यौवन
(C) बुढ़ापा
(D) उपर्युक्त में से एक से अधिक
(E) उपर्युक्त में से कोई नहीं



H-22. शुद्ध शब्द है



- (A) अनाधिकार
- (B) अनधिकार
- (C) अनधीकार
- (D) उपर्युक्त में से एक से अधिक
- (E) उपर्युक्त में से कोई नहीं

H-23. 'शिव' का पर्याय है

- (A) निर्जर
- (B) शशिशेखर
- (C) कंदर्प
- (D) उपर्युक्त में से एक से अधिक
- (E) उपर्युक्त में से कोई नहीं

H-24. 'अनुराग' में कौन-सा उपसर्ग है ?

- (A) अ
- (B) अनु
- (C) अन
- (D) उपर्युक्त में से एक से अधिक
- (E) उपर्युक्त में से कोई नहीं

H-25. 'अत्यधिक' शब्द में कौन-सी संधि है ?



- (A) विसर्ग संधि
- (B) स्वर संधि
- (C) व्यंजन संधि
- (D) उपर्युक्त में से एक से अधिक
- (E) उपर्युक्त में से कोई नहीं

H-26. 'आवश्यक' में प्रत्यय है

- (A) श्यक
- (B) यक
- (C) अक
- (D) उपर्युक्त में से एक से अधिक
- (E) उपर्युक्त में से कोई नहीं



H-27. 'अंगूठा दिखाना' मुहावरे का अर्थ है

- (A) अन्याय करना
- (B) बेइज्जत करना
- (C) समय पर धोखा देना
- (D) उपर्युक्त में से एक से अधिक
- (E) उपर्युक्त में से कोई नहीं

H-28. 'सम्मुख' का विपरीतार्थक है

- (A) विमुख
- (B) सुमुख
- (C) दुर्मुख
- (D) उपर्युक्त में से एक से अधिक
- (E) उपर्युक्त में से कोई नहीं

H-29. विशेषण है

- (A) जीवंत
- (B) जीवंतता
- (C) जीवनी
- (D) उपर्युक्त में से एक से अधिक
- (E) उपर्युक्त में से कोई नहीं

H-30. तत्सम शब्द है

- (A) मुल्क
- (B) दवा
- (C) प्रकृति
- (D) उपर्युक्त में से एक से अधिक
- (E) उपर्युक्त में से कोई नहीं





(Urdu Language)

ہدایت : نیچے دیئے گئے اقتباس کو پڑھئے اور سوال نمبر .U-10 سہیل عظیم آبادی کی والدہ کا انتقال کب ہوا؟ (U-9 تا U-13) تک کے سوالوں کا جواب دیجئے۔



I - اقتباس

- (A) ایک سال کی عمر میں
(B) 1911ء میں
(C) 13 سال کی عمر میں
(D) حسب بالا میں سے ایک سے زائد
(E) حسب بالا میں سے کوئی نہیں



.U-11 سہیل عظیم آبادی کا اصل نام کیا ہے؟

- (A) سید محیب الرحمن
(B) سید شکیل الرحمن
(C) سید مطیع الرحمن
(D) حسب بالا میں سے ایک سے زائد
(E) حسب بالا میں سے کوئی نہیں

.U-12 سہیل عظیم آبادی کا آبائی وطن کہاں ہے؟



- (A) شاہ پور کھگول
(B) شاہ پور ندول
(C) شاہ پور بھدول
(D) حسب بالا میں سے ایک سے زائد
(E) حسب بالا میں سے کوئی نہیں

سہیل عظیم آبادی کا اصل نام سید محیب الرحمن ہے۔ اپنی ابتدائی زندگی میں شاعری بھی کرتے تھے اسی لئے سہیل تخلص رکھتے تھے۔ اس طرح ادبی دنیا میں سہیل عظیم آبادی کے نام سے مشہور ہوئے۔ سہیل عظیم آبادی کی پیدائش 1911ء میں پٹنہ میں ہوئی۔ سہیل صاحب ایک زمیندار خاندان سے تعلق رکھتے تھے۔ ایک سال کی عمر میں والدہ کا انتقال ہو گیا اور پرورش نانیہال میں ہوئی۔ ایک معلم کی سرپرستی میں وہیں ابتدائی تعلیم و تربیت حاصل ہوئی۔ ویسے ان کا آبائی وطن شاہ پور بھدول ہے جو پٹنہ ضلع میں ہی واقع ہے۔ افتاد طبع کی وجہ سے اعلیٰ تعلیم حاصل نہیں کر سکے۔ گرچہ مظفر پور، حیدر آباد اور کلکتہ جیسے علمی مراکز میں قیام پذیر رہے۔ ابتداء شاعری سے کی لیکن آگے چل کر افسانہ نگاری کی طرف مائل ہوئے۔ پھر پیچھے مڑ کر نہیں دیکھا اور بے شمار افسانے لکھے۔

.U-9 سہیل عظیم آبادی اعلیٰ تعلیم کیوں حاصل نہ کر سکے؟

- (A) افتاد طبع کی وجہ سے
(B) پیتھی کی وجہ سے
(C) معاشی تنگی کی وجہ سے
(D) حسب بالا میں سے ایک سے زائد
(E) حسب بالا میں سے کوئی نہیں





U-14. "مرآة العروس" کے کردار کی نشاندہی کیجئے۔

(A) اصغری

(B) اکبری

(C) نضوح

(D) حسب بالا میں سے ایک سے زائد

(E) حسب بالا میں سے کوئی نہیں



U-15. اردو کا اولین ناول نگار کسے تسلیم کیا جاتا ہے؟

(A) عبدالحکیم شرر

(B) نظیر اکبر آبادی

(C) مرزا ہادی رسوا

(D) حسب بالا میں سے ایک سے زائد

(E) حسب بالا میں سے کوئی نہیں

U-16. عالم خواب میں حشر کا نقشہ کون دیکھتا ہے؟

(A) اکبری

(B) نضوح

(C) اصغری خانم

(D) حسب بالا میں سے ایک سے زائد

(E) حسب بالا میں سے کوئی نہیں

U-17. ناول "بنات النعش" کب شائع ہوا؟

(A) 1872ء

(B) 1869ء

(C) 1877ء

(D) حسب بالا میں سے ایک سے زائد

(E) حسب بالا میں سے کوئی نہیں



U-13. سہیل عظیم آبادی کی پیدائش کہاں ہوئی؟

(A) بھدول

(B) شاہ پور

(C) پٹنہ

(D) حسب بالا میں سے ایک سے زائد

(E) حسب بالا میں سے کوئی نہیں



ہدایت : نیچے دیئے گئے اقتباس کو پڑھئے اور سوال نمبر (U-14 تا U-18) تک کے سوالوں کا جواب دیجئے۔

اقتباس - II



ڈپٹی نذیر احمد کو اردو کا اولین ناول نگار تسلیم کیا جاتا ہے۔ "مرآة العروس" کی اشاعت 1869ء میں ہوئی۔ اس ناول کے دو کردار اکبری اور اصغری اب بھی زندہ کردار ہیں۔ اس کے بعد 1872ء میں ان کا ناول "بنات النعش" شائع ہوا۔ اس ناول میں تعلیم پر خاصا زور دیا گیا ہے۔ اس کا ایک کردار اصغری خانم تعلیم نسواں کو عام کرتی ہیں۔ "توبۃ النضوح" کی اشاعت 1877ء میں ہوئی۔ فنی اعتبار سے توبۃ النضوح قدرے بہتر ہے۔ نضوح عالم خواب میں حشر کا نقشہ دیکھتا ہے۔ یہی خواب اس کی زندگی میں اصلاحی انقلاب کا باعث ہوتا ہے۔ "فسانۂ مبتلا" 1885ء میں شائع ہوا۔ "ابن الوقت" نذیر احمد کے ناولوں میں سب سے اہم ہے۔ نذیر احمد کا آخری ناول "رویائے صادقہ" ہے جو 1884ء میں شائع ہوا۔ 74 سال کی عمر میں نذیر احمد پر فالج کا اثر ہوا اور 28 دسمبر 1910ء میں ان کا وصال ہو گیا۔



U-22 "بچے کتاب پڑھ رہے ہیں"

اس جملہ میں 'کتاب' کیا ہے؟

(A) فعل

(B) فاعل

(C) مفعول

(D) حسب بالا میں سے ایک سے زائد

(E) حسب بالا میں سے کوئی نہیں



U-23 وہ لفظ جو اسم کی جگہ پر استعمال ہوتا ہے ،

کیا کہلاتا ہے ؟

(A) فعل

(B) صفت

(C) ضمیر

(D) حسب بالا میں سے ایک سے زائد

(E) حسب بالا میں سے کوئی نہیں



U-24 ذیل میں صحیح جملہ کی نشاندہی کیجئے۔

(A) بچہ رو رہا ہے

(B) بچی رو رہی ہے

(C) بچے رو رہے ہیں

(D) حسب بالا میں سے ایک سے زائد

(E) حسب بالا میں سے کوئی نہیں

U-18 کس ناول میں تعلیم پر خاصا زور دیا گیا ہے؟

(A) توبہ النصوح



(B) مرآة العروس

(C) بنات النعش

(D) حسب بالا میں سے ایک سے زائد

(E) حسب بالا میں سے کوئی نہیں

U-19 درج ذیل میں محاورہ کی نشاندہی کیجئے۔

(A) ناچ نہ جانے آگن ٹیڑھا

(B) تندرستی ہزار نعمت ہے

(C) لوہے کے چنے چبانا

(D) حسب بالا میں سے ایک سے زائد

(E) حسب بالا میں سے کوئی نہیں

U-20 ذیل میں کونسا لفظ "مسرت" کا مترادف ہے؟

(A) آرام



(B) عشرت

(C) شادمانی

(D) حسب بالا میں سے ایک سے زائد

(E) حسب بالا میں سے کوئی نہیں

U-21 درج ذیل میں کونسا جملہ درست ہے؟

(A) آج بے انتہا بارش ہو رہا ہے

(B) آج بے شمار بارش ہو رہی ہے

(C) آج بے انتہا بارش ہو رہی ہے

(D) حسب بالا میں سے ایک سے زائد

(E) حسب بالا میں سے کوئی نہیں



.U-28 "عالم" کی ضد کیا ہے؟

- (A) باطل
(B) کاہل
(C) کابل



- (D) حسب بالا میں سے ایک سے زائد
(E) حسب بالا میں سے کوئی نہیں

.U-25 درج ذیل میں "لاحقہ" کی نشاندہی کیجئے۔

- (A) پاپوش
(B) سودمند
(C) دلربا



- (D) حسب بالا میں سے ایک سے زائد
(E) حسب بالا میں سے کوئی نہیں

.U-29 وہ لفظ جس سے کسی اسم کی اچھائی، بُرائی

یا خصوصیت ظاہر ہو، اسے کیا کہتے ہیں؟

- (A) ضمیر
(B) صفت
(C) فعل

- (D) حسب بالا میں سے ایک سے زائد
(E) حسب بالا میں سے کوئی نہیں

.U-26 درج ذیل الفاظ میں سے "واحد" کی نشاندہی کیجئے۔

- (A) مساکین
(B) امراء
(C) انبیاء

- (D) حسب بالا میں سے ایک سے زائد
(E) حسب بالا میں سے کوئی نہیں

.U-30 درج ذیل الفاظ میں "مذکر" کی نشاندہی کیجئے۔

- (A) دوا
(B) درسگاہ
(C) سڑک

- (D) حسب بالا میں سے ایک سے زائد
(E) حسب بالا میں سے کوئی نہیں



.U-27 وہ لفظ جس سے کسی کام کا کرنا یا ہونا ظاہر

ہو، کیا کہلاتا ہے؟



- (A) فعل
(B) مقطع
(C) مطع

- (D) حسب بالا میں سے ایک سے زائد
(E) حسب بالا میں سے کوئی نہیں



(Bengali Language)

নির্দেশ (প্রশ্নসংখ্যা B-9 থেকে B-18) নিচে দেওয়া অনুচ্ছেদ দু'টি পাঠ করে বহু বিকল্পীয় প্রশ্নগুলির সঠিক উত্তর নির্বাচন করো :



অনুচ্ছেদ - 1

কুণ্ঠিত হইয়া যেই জিজ্ঞাসা করিলাম, কি জাতের মড়া - তুমি ছোঁবে ? ইন্দ্র সরিয়া আসিয়া একহাত তাহার ঘাড়ের তলায় এবং অন্য হাত হাঁটুর নীচে দিয়া একটা শুষ্ক তৃণখণ্ডের মত স্বচ্ছন্দে তুলিয়া লইয়া কহিল, নইলে বেচারাকে শিয়ালে ছেঁড়া-ছিঁড়ি করে থাকে ! আহা ! মুখে এখনো এর ওষুধের গন্ধ পর্যন্ত রয়েছে রে ! বলিয়া নৌকার যে তক্তাখানির উপর ইতিপূর্বে আমি শুইয়া পড়িয়াছিলাম, তাহারই উপর শোয়াইয়া নৌকা ঠেলিয়া দিয়া নিজেও চড়িয়া বসিল। কহিল, মড়ার কি জাত থাকে রে ?

আমি তর্ক করিলাম, কেন থাকবে না ?

ইন্দ্র কহিল, আরে এ যে মড়া ! মড়ার আবার জাত কি ? এই যেমন আমাদের ডিঙিটা - এর কি জাত আছে ? আমগাছ, জামগাছ যে কাঠেরই তৈরি হোক - এখন ডিঙি ছাড়া একে কেউ বলবে না - আমগাছ, জামগাছ - বুঝলি না ? এও তেমনি।

B-9. 'কুণ্ঠিত' শব্দের অর্থ --



- (A) সংশয়গ্রস্ত
- (B) দ্বিধাগ্রস্ত
- (C) চিন্তাগ্রস্ত
- (D) উপরোক্তগুলির মধ্যে একের থেকে অধিক
- (E) উপরের কোনোটিই নয়

B-10. 'তৃণখণ্ড' কাকে বলে ?

- (A) বাঁশের টুকরো
- (B) কাঠের টুকরো
- (C) ঘাসের টুকরো
- (D) উপরোক্তগুলির মধ্যে একের থেকে অধিক
- (E) উপরের কোনোটিই নয়



B-11. ইন্দ্রনাথ বলেছিল, আহা মুখে এখনো এর

- (A) দুধ খাওয়ার দাগ রয়েছে রে!
- (B) আতরের গন্ধ পর্যন্ত রয়েছে রে!
- (C) ওষুধের গন্ধ পর্যন্ত রয়েছে রে!
- (D) উপরোক্তগুলির মধ্যে একের থেকে অধিক
- (E) উপরের কোনোটিই নয়

B-12. 'ডিঙি' - শব্দটি কোন ধরনের শব্দ

- (A) ফারসি শব্দ
- (B) দেশি শব্দ
- (C) আরবি শব্দ
- (D) উপরোক্তগুলির মধ্যে একের থেকে অধিক
- (E) উপরের কোনোটিই নয়

B-13. "মড়ার আবার জাত কি ?" একথা বলেছিল

- (A) শ্রীকান্ত
- (B) যতীন দা
- (C) ইন্দ্রনাথ
- (D) উপরোক্তগুলির মধ্যে একের থেকে অধিক
- (E) উপরের কোনোটিই নয়





অনুচ্ছেদ - 2

স্মৃতির পটে জীবনের ছবি কে আঁকিয়া যায় জানি না। কিন্তু যেই আঁকুক সে ছবিই আঁকে। অর্থাৎ যাহা কিছু ঘটতেছে তাহার অবিকল নকল রাখিবার জন্য সে তুলি হাতে বসিয়া নাই। সে আপনার অভিরুচি-অনুসারে কত কী বাদ দেয়, কত কী রাখাে। কত বড়োকে ছোটো করে, ছোটোকে বড়ো করিয়া তোলে। সে আগের জিনিসকে পাছে ও পাছের জিনিসকে আগে সাজাইতে কিছুমাত্র দ্বিধা করে না। বস্তুত তাহার কাজই ছবি আঁকা, ইতিহাস লেখা নয়।

এইরূপে জীবনের বাহিরের দিকে ঘটনার ধারা চলিয়াছে, আর ভিতরের দিকে সঙ্গে সঙ্গে ছবি আঁকা চলিতেছে। দুয়ের মধ্যে যোগ আছে অথচ দুই ঠিক এক নহে।

আমাদের ভিতরের এই চিত্রপটের দিকে ভালো করিয়া তাকাইবার আমাদের অবসর থাকে না। ঋণে ঋণে ইহার এক-একটা অংশের দিকে আমরা দৃষ্টিপাত করি। কিন্তু ইহার অধিকাংশই অন্ধকারে অগোচরে পড়িয়া থাকে। যে-চিত্রকর অনবরত ছবি আঁকিতেছে, সে যে কেন আঁকিতেছে, তাহার আঁকা যখন শেষ হইবে তখন এই ছবিগুলি যে কোন্ চিত্রশালায় টাঙাইয়া রাখা হইবে তাহা কে বলিতে পারে।

কয়েক বৎসর পূর্বে একদিন কেহ আমাকে আমার জীবনের ঘটনা জিজ্ঞাসা করিতে, একবার এই ছবির ঘরে খবর লইতে গিয়াছিলাম। মনে করিয়াছিলাম জীবনবৃত্তান্তের দুই-চারিটা মোটামুটি উপকরণ সংগ্রহ করিয়া ঋণ হইবা। কিন্তু দ্বার খুলিয়া দেখিতে পাইলাম, জীবনের স্মৃতি জীবনের ইতিহাস নহে- তাহা কোনো এক অদৃশ্য চিত্র-করের স্বহস্তের রচনা।



B-14. যে ছবি আঁকে তাকে কি বলা হয়

- (A) চিত্রকর
- (B) রংরেজ
- (C) ছবিওয়াল
- (D) উপরোক্তগুলির মধ্যে একের থেকে অধিক
- (E) উপরের কোনোটিই নয়



B-15. ‘স্মৃতির পটে জীবনের ছবি’ আঁকাকে কি বলা যেতে পারে ?

- (A) জীবন-অঙ্কন
- (B) জীবনপট
- (C) জীবনস্মৃতি
- (D) উপরোক্তগুলির মধ্যে একের থেকে অধিক
- (E) উপরের কোনোটিই নয়



B-16. চিত্রকরের আঁকা শেষ হবে

- (A) জীবনের অপরাহ্নে
- (B) জীবন সমাপ্তিতে
- (C) জীবনের উষালগ্নে
- (D) উপরোক্তগুলির মধ্যে একের থেকে অধিক
- (E) উপরের কোনোটিই নয়



B-17. সে আগের জিনিসকে পাছে - পাছে শব্দের অর্থ কি ?

- (A) পাশে
- (B) পিছনে
- (C) মাঝখানে
- (D) উপরোক্তগুলির মধ্যে একের থেকে অধিক
- (E) উপরের কোনোটিই নয়



B-18. জীবনের স্মৃতি জীবনের — নহে শূন্যস্থান পূর্ণ করে

- (A) ইতিহাস
(B) কাহিনী
(C) ঘটনা
(D) উপরোক্তগুলির মধ্যে একের থেকে অধিক



(E) উপরের কোনোটিই নয়

নির্দেশ (প্রশ্নসংখ্যা B-19 থেকে B-30)

নিম্নলিখিত বহু বিকল্পীয় প্রশ্নগুলির সঠিক উত্তর চিহ্নিত করো।

B-19. তৎ + কর সন্ধি করলে কি হবে ?

- (A) টকর
(B) তক্ষক
(C) তস্কর
(D) উপরোক্তগুলির মধ্যে একের থেকে অধিক



(E) উপরের কোনোটিই নয়

B-20. ‘জলে থাকে মাছ’ – কোন কারকে কোন বিভক্তি ?

- (A) কর্তৃকারকে এ বিভক্তি
(B) অপাদান কারকে শূন্য বিভক্তি
(C) অধিকরণ কারকে এ বিভক্তি
(D) উপরোক্তগুলির মধ্যে একের থেকে অধিক
(E) উপরের কোনোটিই নয়

B-21. কোন্ বাক্যে ‘বুঝি’, ‘হয়তো’, ‘বোধ- হয়’ প্রভৃতি শব্দের ব্যবহার হয়?



- (A) প্রার্থনাসূচক বাক্য
(B) আবেগসূচক বাক্য
(C) সন্দেহসূচক বাক্য
(D) উপরোক্তগুলির মধ্যে একের থেকে অধিক
(E) উপরের কোনোটিই নয়



B-22. উপ-পূর্বক নী + অন (অন্ট)-এর দ্বারা নীচের কোন শব্দটি নিষ্পন্ন হয়?

- (A) উপনয়ন
(B) উপমান
(C) উপনীত
(D) উপরোক্তগুলির মধ্যে একের থেকে অধিক
(E) উপরের কোনোটিই নয়

B-23. থ, ছ, ঠ, ফ এই বর্ণগুলি –

- (A) মহাপ্রাণ ধ্বনি
(B) অনুপ্রাণ ধ্বনি
(C) নাসিক্য ধ্বনি
(D) উপরোক্তগুলির মধ্যে একের থেকে অধিক
(E) উপরের কোনোটিই নয়

B-24. ‘আপ্রাণ’ শব্দের সমার্থক শব্দ কি হবে ?

- (A) প্রাণপণ 
(B) প্রচুর 
(C) প্রচণ্ড
(D) উপরোক্তগুলির মধ্যে একের থেকে অধিক
(E) উপরের কোনোটিই নয়



B-25. শবরী শব্দের অর্থ হলো

(A) বেদেনী

(B) রাত্রি

(C) ব্যাধিনী



(D) উপরোক্তগুলির মধ্যে একের থেকে অধিক

(E) উপরের কোনোটিই নয়

B-26. তিনি একজন পাণ্ডিত্যপূর্ণ ব্যক্তি শুদ্ধ করে লেখো

(A) পণ্ডিত

(B) পাণ্ডিত্যপূর্ণ

(C) পাণ্ডিত্য

(D) উপরোক্তগুলির মধ্যে একের থেকে অধিক

(E) উপরের কোনোটিই নয়

B-27. নীচের শব্দগুলি থেকে যোগারূঢ় শব্দ চিহ্নিত করো

(A) হরিণ



(B) সন্দেশ

(C) পীতাম্বর

(D) উপরোক্তগুলির মধ্যে একের থেকে অধিক

(E) উপরের কোনোটিই নয়

B-28. কাল নির্ণয় করো –

“অনেকের মুখেই গল্পটা শুনেছি”

(A) ঘটমান অতীত

(B) ঐতিহাসিক বর্তমান

(C) পুরাঘটিত বর্তমান



(D) উপরোক্তগুলির মধ্যে একের থেকে অধিক

(E) উপরের কোনোটিই নয়

B-29. তিনি ধনী কিন্তু অসুখী সরল বাক্যে পরিণত করলে হবে –

(A) যদিও তিনি ধনী তথাপি তিনি অসুখী

(B) ধনী হলেও তিনি অসুখী

(C) তিনি ধনী কিন্তু সুখী নন

(D) উপরোক্তগুলির মধ্যে একের থেকে অধিক

(E) উপরের কোনোটিই নয়

B-30. আলকাতরা, আলমারি কোন দেশীয় শব্দ ?

(A) তুর্কি

(B) পর্তুগীজ

(C) ফারসী

(D) উপরোক্তগুলির মধ্যে একের থেকে অধিক



(E) উপরের কোনোটিই নয়



PART – II
(GENERAL STUDIES)

31. Where is the UN Climate Change Conference 2024 scheduled to be held in November 2024 ?



- (A) Baku-Azerbaijan
- (B) Sharmel-Sheikh-Egypt
- (C) Dubai-UAE
- (D) More than one of the above
- (E) None of the above

34. Which Country in the world became the first to enshrine right to abortion in its Constitution ?

- (A) France
- (B) United States
- (C) Denmark
- (D) More than one of the above
- (E) None of the above



32. Which of the following is true about respiration ?

- (A) Energy is released and stored in form of ADP
- (B) Energy is released and stored in form of ATP
- (C) Energy is not released at all
- (D) More than one of the above
- (E) None of the above

35. Store house of malarial parasite in our body is

- (A) Spleen
- (B) Liver
- (C) Stomach
- (D) More than one of the above
- (E) None of the above

33. In how many years will ₹ 7,500 double at 8% simple interest ?



- (A) 12.5 years
- (B) 10 years
- (C) 16 years
- (D) More than one of the above
- (E) None of the above

36. Which city was recently declared as the tourism capital of the Country by the government of Nepal ?

- (A) Kathmandu
- (B) Lumbini
- (C) Pokhara
- (D) More than one of the above
- (E) None of the above






PART – II
(GENERAL STUDIES)

31. नवंबर 2024 में संयुक्त राष्ट्र जलवायु परिवर्तन सम्मेलन 2024 कहाँ आयोजित होने वाला है ?
- (A) बाकू-अज़रबैजान
(B) शर्मेल-शेख-मिस्र
(C) दुबई-यूएई
(D) उपर्युक्त में से एक से अधिक
(E) उपर्युक्त में से कोई नहीं
32. श्वास प्रक्रिया के लिए निम्न में कौन-सा कथन सत्य है ?
- (A) ऊर्जा स्रावित होती है तथा ADP के रूप में भण्डारित होती है
(B) ऊर्जा स्रावित होती है तथा ATP के रूप में भण्डारित होती है
(C) ऊर्जा कभी स्रावित नहीं होती है
(D) उपर्युक्त में से एक से अधिक
(E) उपर्युक्त में से कोई नहीं
33. कितने वर्षों में ₹ 7,500, 8% साधारण ब्याज पर दोगुना हो जायेगा ?
- (A) 12.5 वर्ष
(B) 10 वर्ष
(C) 16 वर्ष
(D) उपर्युक्त में से एक से अधिक
(E) उपर्युक्त में से कोई नहीं
34. विश्व का कौन-सा देश अपने संविधान में गर्भपात का अधिकार सुनिश्चित करने वाला पहला देश बना ?
- (A) फ्रांस
(B) संयुक्त राज्य अमेरिका
(C) डेनमार्क
(D) उपर्युक्त में से एक से अधिक
(E) उपर्युक्त में से कोई नहीं
35. हमारे शरीर में मलेरिया परजीवी का भण्डारण स्थल है
- (A) प्लीहा
(B) यकृत
(C) पेट
(D) उपर्युक्त में से एक से अधिक
(E) उपर्युक्त में से कोई नहीं
36. हाल ही में नेपाल सरकार द्वारा किस शहर को देश की पर्यटन राजधानी घोषित किया गया ?
- (A) काठमांडू
(B) लुंबिनी
(C) पोखरा
(D) उपर्युक्त में से एक से अधिक
(E) उपर्युक्त में से कोई नहीं



37. Asiatic Society of Bengal was founded by
- (A) Sir William Jones
 - (B) Sir James Todd
 - (C) Sir William Bentinck
 - (D) More than one of the above
 - (E) None of the above


38. The value of $(0.03125)^{\frac{2}{5}}$ is

- 
- (A) 6
 - (B) 4
 - (C) 9
 - (D) More than one of the above
 - (E) None of the above


39. What is India's position in the world on the basis of per capita water availability per year ?

- (A) 140th
- (B) 100th
- (C) 123rd
- (D) 133rd
- (E) None of the above

40. Which of the following oxides is soluble in water ?

- 
- (A) CaO
 - (B) ZnO
 - (C) FeO
 - (D) More than one of the above
 - (E) None of the above


41. Congress Socialist Party (CSP) was formed in the year

- (A) 1932
 - (B) 1930
 - (C) 1934
 - (D) More than one of the above
 - (E) None of the above
- 

42. Which one of the following is **not** a colloid ?

- (A) Blood
- (B) Smoke
- (C) Vinegar
- (D) More than one of the above
- (E) None of the above

43. Ghatshila of Jharkhand is famous for which mineral production ?

- (A) Bauxite
 - (B) Copper
 - (C) Mica
 - (D) More than one of the above
 - (E) None of the above
- 



37. एशियाटिक सोसाइटी ऑफ बंगाल की स्थापना किसके द्वारा की गई थी ?

- (A) सर विलियम जोन्स
- (B) सर जेम्स टॉड
- (C) सर विलियम बेंटिंक
- (D) उपर्युक्त में से एक से अधिक



(E) उपर्युक्त में से कोई नहीं

38. $(0.03125)^{\frac{2}{5}}$ का मान है

- (A) 6
- (B) 4
- (C) 9
- (D) उपर्युक्त में से एक से अधिक
- (E) उपर्युक्त में से कोई नहीं

39. प्रति व्यक्ति प्रति वर्ष जल उपलब्धता के आधार पर भारत का विश्व में कौन-सा स्थान है ?

- (A) 140 वाँ
- (B) 100 वाँ
- (C) 123 वाँ
- (D) 133 वाँ
- (E) उपर्युक्त में से कोई नहीं

40. निम्न ऑक्साइडों में कौन-सा जल में घुलनशील है ?



- (A) CaO
- (B) ZnO
- (C) FeO
- (D) उपर्युक्त में से एक से अधिक
- (E) उपर्युक्त में से कोई नहीं

41. कांग्रेस सोशियलिस्ट पार्टी (सीएसपी) का गठन किस वर्ष हुआ था ?

- (A) 1932
- (B) 1930
- (C) 1934
- (D) उपर्युक्त में से एक से अधिक

(E) उपर्युक्त में से कोई नहीं



42. निम्न में कौन-सा कोलायड नहीं है ?

- (A) रक्त
- (B) धुआँ
- (C) सिरका
- (D) उपर्युक्त में से एक से अधिक
- (E) उपर्युक्त में से कोई नहीं

43. झारखंड का घाटशिला किस खनिज उत्पादन के लिए प्रसिद्ध है ?

- (A) बॉक्साइट
- (B) तांबा
- (C) अभ्रक
- (D) उपर्युक्त में से एक से अधिक
- (E) उपर्युक्त में से कोई नहीं





44. Subramaniam and Naidu donate some money in a relief fund. The amount paid by Naidu is ₹ 125 more than that of Subramaniam. If the total money paid by them is ₹ 975, then the amount of money donated by Subramaniam is

- (A) ₹ 425
- (B) ₹ 575
- (C) ₹ 385
- (D) More than one of the above




(E) None of the above

45. Subhashchandra Bose was President of Indian National Congress in the year/s

- (A) 1938
- (B) 1937
- (C) 1939
- (D) More than one of the above



(E) None of the above

46. Who was conferred the Dadasaheb Phalke Award 2023 for lifetime contribution to cinema ? 

- (A) Dilip Kumar (Posthumously)
- (B) Waheeda Rehman
- (C) Asha Parekh
- (D) More than one of the above
- (E) None of the above

47. Lamps used in street lighting are connected in

- (A) Series
- (B) Parallel
- (C) Both series and parallel
- (D) More than one of the above
- (E) None of the above



48. Bihar Diwas is celebrated on _____ to

- (A) On March 22 to commemorate its separation from the Bengal Presidency
- (B) On March 22 to commemorate its separation from the Mughal Presidency
- (C) On March 22 to commemorate its separation from the Calcutta Presidency
- (D) More than one of the above
- (E) None of the above



44. सुब्रमण्यम और नायडू ने राहत कोष में कुछ पैसे दान किए । नायडू द्वारा दी गई राशि सुब्रमण्यम द्वारा दी गई राशि से ₹ 125 अधिक है । यदि उनके द्वारा दान की कुल धनराशि ₹ 975 है, तो सुब्रमण्यम द्वारा दान की गई धनराशि है




- (A) ₹ 425
(B) ₹ 575
(C) ₹ 385
(D) उपर्युक्त में से एक से अधिक
(E) उपर्युक्त में से कोई नहीं

45. सुभाषचंद्र बोस किस वर्ष भारतीय राष्ट्रीय कांग्रेस के अध्यक्ष थे ?




- (A) 1938
(B) 1937
(C) 1939
(D) उपर्युक्त में से एक से अधिक
(E) उपर्युक्त में से कोई नहीं

46. सिनेमा में आजीवन योगदान के लिए दादासाहब फाल्के पुरस्कार 2023 से किसे सम्मानित किया गया ?

- (A) दिलीप कुमार (मरणोपरांत)
(B) वहीदा रहमान 
(C) आशा पारेख
(D) उपर्युक्त में से एक से अधिक
(E) उपर्युक्त में से कोई नहीं

47. सड़क प्रकाश में उपयोग आने वाले बल्बों को जोड़ा जाता है

- (A) श्रेणी क्रम में
(B) समानान्तर क्रम में 
(C) दोनों श्रेणी तथा समानान्तर क्रम में
(D) उपर्युक्त में से एक से अधिक
(E) उपर्युक्त में से कोई नहीं

48. बिहार दिवस _____ मनाया जाता है ।

- (A) 22 मार्च को बंगाल प्रेसीडेंसी से अलग होने के उपलक्ष्य में
(B) 22 मार्च को मुगल प्रेसीडेंसी से अलग होने की स्मृति में
(C) 22 मार्च को कलकत्ता प्रेसीडेंसी से अलग होने के उपलक्ष्य में
(D) उपर्युक्त में से एक से अधिक
(E) उपर्युक्त में से कोई नहीं



49. Which of the following is true ?

(A) $\frac{31}{36} < \frac{17}{18} < \frac{59}{60} < \frac{43}{45}$

(B) $\frac{17}{18} < \frac{31}{36} < \frac{43}{45} < \frac{59}{60}$

(C) $\frac{31}{36} < \frac{17}{18} < \frac{43}{45} < \frac{59}{60}$

(D) More than one of the above



(E) None of the above

50. Famous for his role during 26/11 Mumbai terrorist attacks, Dr. Sadanand Date was appointed as Chief of which one of the following forces in March 2024 ?

(A) Central Reserve Police Force (CRPF)

(B) Border Security Force (BSF)

(C) Enforcement Directorate (ED)

(D) More than one of the above

(E) None of the above

51. For what purpose is water used the most in India ?



(A) Industries

(B) Irrigation

(C) Domestic

(D) More than one of the above

(E) None of the above

52. Plants appear to bend towards light due to



(A) Concentration of auxins at root tip

(B) Diffusion of auxins towards shady side of shoot

(C) Concentration of auxins at shoot tip

(D) More than one of the above

(E) None of the above

53. Where are more favorable conditions found in India for tidal and wave energy production ?

(A) Gulf of Kutch

(B) Mannar bay

(C) Khambhat bay

(D) Ganga river

(E) None of the above

54. The formation of Simon Commission was announced on



(A) 8th November 1928

(B) 8th December 1927

(C) 8th November 1929

(D) More than one of the above

(E) None of the above



49. निम्नलिखित में से कौन-सा सही है ?

(A) $\frac{31}{36} < \frac{17}{18} < \frac{59}{60} < \frac{43}{45}$

(B) $\frac{17}{18} < \frac{31}{36} < \frac{43}{45} < \frac{59}{60}$

(C) $\frac{31}{36} < \frac{17}{18} < \frac{43}{45} < \frac{59}{60}$

(D) उपर्युक्त में से एक से अधिक

(E) उपर्युक्त में से कोई नहीं

50. 26/11 मुंबई आतंकवादी हमलों के दौरान अपनी भूमिका के लिए प्रसिद्ध, डॉ. सदानंद दाते को मार्च 2024 में निम्नलिखित में से किस बल के प्रमुख के रूप में नियुक्त किया गया था ?

(A) केंद्रीय रिजर्व पुलिस बल (सीआरपीएफ)

(B) सीमा सुरक्षा बल (बीएसएफ)

(C) प्रवर्तन निदेशालय (ईडी)

(D) उपर्युक्त में से एक से अधिक

(E) उपर्युक्त में से कोई नहीं

51. भारत में पानी का सर्वाधिक उपयोग किस प्रयोजन के लिए किया जाता है ?



(A) उद्योग

(B) सिंचाई

(C) घरेलू

(D) उपर्युक्त में से एक से अधिक

(E) उपर्युक्त में से कोई नहीं

52. प्रकाश की ओर पौधों के झुकाव का मुख्य कारण है

(A) मूलाग्र पर ऑक्सिन की सान्द्रता

(B) प्ररोह के छायादार भाग की ओर ऑक्सिन का विसरण

(C) प्ररोह छोर पर ऑक्सिन की सान्द्रता

(D) उपर्युक्त में से एक से अधिक

(E) उपर्युक्त में से कोई नहीं



53. भारत में ज्वारीय एवं तरंग ऊर्जा उत्पादन के लिए अधिक अनुकूल परिस्थितियाँ कहाँ पाई जाती हैं ?

(A) कच्छ की खाड़ी

(B) मन्नार खाड़ी

(C) खंभात खाड़ी

(D) गंगा नदी

(E) उपर्युक्त में से कोई नहीं

54. साइमन कमीशन के गठन की घोषण कब की गई थी ?

(A) 8 नवंबर 1928

(B) 8 दिसंबर 1927

(C) 8 नवंबर 1929

(D) उपर्युक्त में से एक से अधिक

(E) उपर्युक्त में से कोई नहीं





55. The ratio of two numbers is 14 : 25. If the difference between them is 264, then the smaller of the two numbers is



- (A) 317
- (B) 282
- (C) 336
- (D) More than one of the above
- (E) None of the above

56. Where has the Gharial Breeding Center been established in India ?

- (A) Sundarbans (W.B.)
- (B) Morena (M.P.)
- (C) Corbett (Uttarakhand)
- (D) More than one of the above
- (E) None of the above

57. Which one of the following is **not** among the four pilots who have been trained to become astronauts for the ISRO's Gaganyaan mission to space planned for 2024-25 ?



- (A) Group Captain Ajit Krishnan
- (B) Group Captain P.B. Nair
- (C) Wing Commander Subhanshu Shukla
- (D) More than one of the above
- (E) None of the above

58. Who threw harmless bombs in the Central Legislative Assembly ?



- (A) Batukeshwar Dutt
- (B) Chandrashekhar Azad
- (C) Jatin Das
- (D) More than one of the above
- (E) None of the above

59. If $x^4 + y^4 = 17$ and $x + y = 1$, then the value of $x^2y^2 - 2xy$ is

- (A) 8
- (B) 4
- (C) 12
- (D) More than one of the above
- (E) None of the above

60. National Library of India started its journey with the opening of



- (A) Calcutta Public Library in March 1837
- (B) Calcutta Public Library in March 1836
- (C) Calcutta Public Library in March 1838
- (D) More than one of the above
- (E) None of the above



55. दो संख्याओं का अनुपात 14 : 25 है। यदि उनके बीच का अंतर 264 है, तो दोनों संख्याओं में से छोटी संख्या है

- (A) 317
(B) 282
(C) 336



- (D) उपर्युक्त में से एक से अधिक
(E) उपर्युक्त में से कोई नहीं

56. भारत में घड़ियाल प्रजनन केंद्र कहाँ स्थापित किया गया है ?

- (A) सुंदरबन (डब्ल्यू.बी.)
(B) मुरैना (म.प्र.)
(C) कॉर्बेट (उत्तराखंड)
(D) उपर्युक्त में से एक से अधिक
(E) उपर्युक्त में से कोई नहीं

57. निम्नलिखित में से कौन-सा उन चार पायलटों में से नहीं है जिन्हें 2024-25 के लिए योजनाबद्ध अंतरिक्ष में इसरो के गगनयान मिशन के लिए अंतरिक्ष यात्री बनने के लिए प्रशिक्षित किया गया है ?



- (A) ग्रुप कैप्टन अजीत कृष्णन
(B) ग्रुप कैप्टन पी.बी. नायर
(C) विंग कमांडर सुभांशु शुक्ला
(D) उपर्युक्त में से एक से अधिक
(E) उपर्युक्त में से कोई नहीं

58. केन्द्रीय विधान सभा में हानिरहित बम किसने फेंके ?

- (A) बटुकेश्वर दत्त
(B) चन्द्रशेखर आजाद
(C) जतिन दास
(D) उपर्युक्त में से एक से अधिक



- (E) उपर्युक्त में से कोई नहीं

59. यदि $x^4 + y^4 = 17$ तथा $x + y = 1$ हो, तो $x^2y^2 - 2xy$ का मान है

- (A) 8
(B) 4
(C) 12
(D) उपर्युक्त में से एक से अधिक
(E) उपर्युक्त में से कोई नहीं

60. भारत के राष्ट्रीय पुस्तकालय ने अपनी यात्रा किसके उद्घाटन के साथ शुरू की ?

- (A) मार्च 1837 में कलकत्ता पब्लिक लाइब्रेरी
(B) मार्च 1836 में कलकत्ता पब्लिक लाइब्रेरी
(C) मार्च 1838 में कलकत्ता पब्लिक लाइब्रेरी
(D) उपर्युक्त में से एक से अधिक

- (E) उपर्युक्त में से कोई नहीं





61. What was the electoral symbol that was restored to Imran Khan's Pakistan Tehreek-e-Insaf party by a ruling of the Peshawar High Court against the decision of the Country's election commission in January 2024 ?

(A) Crescent Moon



(B) Cricket 'Bat'

(C) Cricket 'Ball'

(D) More than one of the above

(E) None of the above

62. A room is 8 meters long, 6 meters wide and 10 meters high, then the length of the longest pole that can be placed in the room is

(A) 12 meters



(B) $10\sqrt{2}$ meters

(C) $12\sqrt{6}$ meters

(D) More than one of the above

(E) None of the above

63. What is manganese used for ?

(A) Photography industry

(B) Battery production

(C) Matchbox industry

(D) More than one of the above

(E) None of the above



64. Which of the following organs control body balance ?

(A) Ribs

(B) Ear

(C) Cerebellum

(D) More than one of the above

(E) None of the above

65. Under the Government of India Act 1935, who was the first elected Chairman of Bihar Legislative Council ?

(A) Rajiv Ranjan Sinha

(B) Rajendra Prasad



(C) Rai Bahadur Satish Chandra

(D) More than one of the above

(E) None of the above



61. जनवरी 2024 में देश के चुनाव आयोग के फैसले के खिलाफ पेशावर उच्च न्यायालय के एक फैसले द्वारा इमरान खान की पाकिस्तान तहरीक-ए-इंसाफ पार्टी को बहाल किया गया चुनावी प्रतीक क्या था ?




- (A) वर्धमान चंद्रमा
- (B) क्रिकेट 'बैट'
- (C) क्रिकेट 'बॉल'
- (D) उपर्युक्त में से एक से अधिक
- (E) उपर्युक्त में से कोई नहीं

62. एक कमरा 8 मीटर लंबा, 6 मीटर चौड़ा और 10 मीटर ऊंचा है, तो कमरे में रखे जा सकने वाले सबसे लंबे खंभे की लम्बाई है



- (A) 12 मीटर
- (B) $10\sqrt{2}$ मीटर
- (C) $12\sqrt{6}$ मीटर
- (D) उपर्युक्त में से एक से अधिक
- (E) उपर्युक्त में से कोई नहीं

63. मैग्नीज का उपयोग कहाँ किया जाता है ?

- (A) फोटोग्राफी उद्योग
- (B) बैटरी उत्पादन
- (C) माचिस उद्योग 
- (D) उपर्युक्त में से एक से अधिक
- (E) उपर्युक्त में से कोई नहीं

64. निम्न में शरीर का कौन-सा अंग शरीर के संतुलन को नियंत्रित करता है ?

- (A) पसली
- (B) कान
- (C) सेरेबेलम
- (D) उपर्युक्त में से एक से अधिक
- (E) उपर्युक्त में से कोई नहीं



65. भारत सरकार अधिनियम 1935 के तहत बिहार विधान परिषद के प्रथम निर्वाचित सभापति कौन थे ?

- (A) राजीव रंजन सिन्हा
- (B) राजेंद्र प्रसाद
- (C) राय बहादुर सतीश चंद्र
- (D) उपर्युक्त में से एक से अधिक
- (E) उपर्युक्त में से कोई नहीं



66. The Ministry of Science and Technology recently announced a new set of National Awards in the field of Science, Technology and Innovation known as 'Rashtriya Vigyan Puraskar', for which the award ceremony for all categories of awards will be held every year on

(A) 11th May – National Technology Day

(B) 28th February – National Science Day



(C) 23rd August – National Space Day

(D) More than one of the above

(E) None of the above

67. If $\left(\frac{1}{5}\right)^{3x} = 0.008$, then the value of $(0.25)^x$ is



(A) 1.0

(B) 0.25

(C) 4.0

(D) More than one of the above

(E) None of the above

68. In which year was the African Convention for the Conservation of Natural Resources held ?



(A) 1980

(B) 1960

(C) 1968

(D) 1990

(E) None of the above

69. Which of the following represents non-ohmic resistance ?

(A) Nichrome

(B) Torch Bulb

(C) Copper

(D) More than one of the above

(E) None of the above

70. Which river makes boundary between India and Nepal ?



(A) Gandak

(B) Kali

(C) Kosi

(D) More than one of the above

(E) None of the above



66. विज्ञान और प्रौद्योगिकी मंत्रालय ने हाल ही में विज्ञान, प्रौद्योगिकी और नवाचार के क्षेत्र में राष्ट्रीय पुरस्कारों के एक नए सेट की घोषणा की, जिसे 'राष्ट्रीय विज्ञान पुरस्कार' के नाम से जाना जाता है, जिसके लिए सभी श्रेणियों के पुरस्कारों के लिए पुरस्कार समारोह हर साल आयोजित किया



जाएगा

- (A) 11 मई - राष्ट्रीय प्रौद्योगिकी दिवस के दिन
- (B) 28 फरवरी - राष्ट्रीय विज्ञान दिवस के दिन
- (C) 23 अगस्त - राष्ट्रीय अंतरिक्ष दिवस के दिन
- (D) उपर्युक्त में से एक से अधिक
- (E) उपर्युक्त में से कोई नहीं

67. यदि $\left(\frac{1}{5}\right)^{3x} = 0.008$ हो, तो $(0.25)^x$ का मान है



- (A) 1.0
- (B) 0.25
- (C) 4.0
- (D) उपर्युक्त में से एक से अधिक
- (E) उपर्युक्त में से कोई नहीं

68. प्राकृतिक संसाधनों के संरक्षण के लिए अफ्रीकी सम्मेलन किस वर्ष आयोजित किया गया था ?

(A) 1980



(B) 1960

(C) 1968

(D) 1990

(E) उपर्युक्त में से कोई नहीं

69. निम्न में कौन-सा गैर ओहमिक प्रतिरोध का प्रतिनिधित्व करता है ?

(A) नाइक्रोम

(B) टार्च बल्ब

(C) ताँबा

(D) उपर्युक्त में से एक से अधिक

(E) उपर्युक्त में से कोई नहीं

70. कौन-सी नदी भारत और नेपाल के बीच सीमा बनाती है ?



(A) गंडक

(B) काली

(C) कोसी

(D) उपर्युक्त में से एक से अधिक


(E) उपर्युक्त में से कोई नहीं



PART – III
(ENGLISH)

Directions (Q. Nos. 71 – 105) : Choose the correct option.

71. Which author created the line “Elementary, my dear Watson!” ?

- (A) Arthur Conan Doyle
-  (B) Agatha Christie
- (C) Edgar Allan Poe
- (D) More than one of the above
- (E) None of the above


72. The figure of speech used in the phrase “darkness visible” is

- (A) Metaphor
- (B) Simile
- (C) Oxymoron
- (D) More than one of the above
- (E) None of the above


73. Which Victorian poet wrote the dramatic monologues “Andrea Del Sarto” and “Fra Lippo Lippi” ?

- (A) Robert Browning
- (B) Lord Tennyson
- (C) Elizabeth Barrett Browning
- (D) More than one of the above
- (E) None of the above

74. Who is the author of the novel Lord of the Flies ?

-  (A) William Golding
- (B) Thomas Hardy
- (C) Margaret Atwood
- (D) More than one of the above
- (E) None of the above

75. What was the pseudonym of Charles Dickens ?

- (A) Elia 
- (B) Boz
- (C) Currer Bell
- (D) More than one of the above
- (E) None of the above

76. Which critic distinguished between ‘fancy’, ‘primary imagination’ and ‘secondary imagination’ ?

- (A) S. T. Coleridge
- (B) William Wordsworth
- (C) John Keats
- (D) More than one of the above
- (E) None of the above


77. Who wrote the novel Sons and Lovers ?

- (A) Sigmund Freud
- (B) Virginia Woolf
- (C) D. H. Lawrence
- (D) More than one of the above
- (E) None of the above

78. In which eighteenth century novel do we find the ‘Yahoos’ ?

- (A) Robinson Crusoe
- (B) Gulliver’s Travels
- (C) Amelia
- (D) More than one of the above
- (E) None of the above

79. Which famous English essayist wrote “Confessions of an Opium Eater” ?

- (A) Thomas De Quincey 
- (B) Thomas Macaulay
- (C) Dylan Thomas
- (D) More than one of the above
- (E) None of the above



80. Who wrote the novel Emma ?

- (A) Mary Wollstonecraft
- (B) Jane Austen



- (C) Mary Shelley
- (D) More than one of the above
- (E) None of the above

81. Which American playwright wrote Death of a Salesman ?

- (A) Vladimir Nabokov
- (B) Arthur Miller
- (C) Tennessee Williams
- (D) More than one of the above
- (E) None of the above

82. Who wrote the play The Jew of Malta ?

- (A) T. S. Eliot
- (B) Christopher Marlowe
- (C) Tom Stoppard
- (D) More than one of the above
- (E) None of the above

83. Which English novelist created the character of Miss Marple ?



- (A) P. G. Wodehouse
- (B) Agatha Christie
- (C) Charles Dickens
- (D) More than one of the above
- (E) None of the above

84. The dramatist who wrote the play The Spanish Tragedy was



- (A) William Shakespeare
- (B) Christopher Marlowe
- (C) Thomas Kyd
- (D) More than one of the above
- (E) None of the above

85. Who created the character of Leopold Bloom in Ulysses ?

- (A) Virginia Woolf
- (B) W. B. Yeats
- (C) James Joyce
- (D) More than one of the above
- (E) None of the above

86. Which Indian poet wrote the poem "The Fakir of Jungheera" ?



- (A) Rabindranath Tagore
- (B) Toru Dutt
- (C) Henry L. Derozio
- (D) More than one of the above
- (E) None of the above

87. In which novel by Charles Dickens do we find the character of Mr. Micawber ?

- (A) The Pickwick Papers
- (B) Great Expectations
- (C) David Copperfield
- (D) More than one of the above
- (E) None of the above

88. Who wrote the play The Birthday Party ?

- (A) Samuel Beckett
- (B) Harold Pinter
- (C) William Golding
- (D) More than one of the above
- (E) None of the above



89. Which novelist created the character of Saleem Sinai ?

- (A) Mulk Raj Anand
- (B) Shashi Tharoor
- (C) Salman Rushdie
- (D) More than one of the above
- (E) None of the above

90. "But at my back I always hear/ Time's winged chariot hurrying near". The lines are taken from the poem

- (A) The Pulley
- (B) The Good Morrow
- (C) To His Coy Mistress
- (D) More than one of the above
- (E) None of the above



91. Which English novelist created the character of Dr. Aziz in A Passage to India ?

- (A) E. M. Forster
- (B) Rudyard Kipling
- (C) M. G. Vassanji
- (D) More than one of the above
- (E) None of the above

92. A poem of mourning for a person or an object is called

- (A) An Ode
- (B) An Elegy
- (C) A Madrigal
- (D) More than one of the above
- (E) None of the above

93. "The Sea of Faith/Was once, too, at the full, and round earth's shore/Lay like the folds of a bright girdle furled." Who wrote these lines ?

- (A) Robert Browning
- (B) Lord Tennyson
- (C) Matthew Arnold
- (D) More than one of the above
- (E) None of the above



94. Which English poet wrote the following lines ?

"Break, break, break/On my cold gray stones, O Sea!/ And I would that my tongue could utter/The thoughts that arise in me."

- (A) Robert Browning
- (B) Thomas Hardy
- (C) Lord Alfred Tennyson
- (D) More than one of the above
- (E) None of the above



95. In which novel do we find the characters of Elizabeth Bennett and Mr. Darcy ?

- (A) Emma
- (B) Sense and Sensibility
- (C) Pride and Prejudice
- (D) More than one of the above
- (E) None of the above

96. Which Indian novelist created the character of Raju the Guide ?

- (A) Mulk Raj Anand
- (B) R. K. Narayan
- (C) Raja Rao
- (D) More than one of the above
- (E) None of the above

97. "On His Blindness" was written by

- (A) Alexander Pope
- (B) Edmund Spenser
- (C) T. S. Eliot
- (D) More than one of the above
- (E) None of the above



98. Which figure of speech is also known as bathos ?

- (A) Anticlimax
- (B) Metaphor
- (C) Synecdoche
- (D) More than one of the above
- (E) None of the above



99. In which Shakespearean play do we find the character of Caliban ?
 (A) The Winter's Tale
 (B) The Tempest
 (C) Coriolanus
 (D) More than one of the above
 (E) None of the above

100. Which critic used the term "negative capability" ?



- (A) T. S. Eliot
 (B) W. B. Yeats
 (C) John Keats
 (D) More than one of the above
 (E) None of the above

101. The lines "It is a tale told by an idiot/
 Full of sound and fury signifying
 nothing" are taken from the play

- (A) Macbeth
 (B) Hamlet
 (C) King Lear
 (D) More than one of the above
 (E) None of the above

102. Which American novelist created the characters of Jay Gatsby and Nick Carraway ?

- (A) F. Scott Fitzgerald
 (B) Herman Melville
 (C) Ernest Hemingway
 (D) More than one of the above
 (E) None of the above

103. What is the prosodic meter used in the following line ?



"The Curfew tolls the knell of parting day."

- (A) Iambic pentameter
 (B) Iambic trimeter
 (C) Trochaic pentameter
 (D) More than one of the above
 (E) None of the above

104. Who created the idea of the "Touchstone Method" as an aspect of literary criticism ?

- (A) Walter Savage Landor
 (B) Walter Pater
 (C) Matthew Arnold
 (D) More than one of the above
 (E) None of the above



105. Which English Romantic poet wrote the following lines ?

"In Xanadu did Kubla Khan/
 A pleasant pleasure dome decree".

- (A) S. T. Coleridge
 (B) William Wordsworth
 (C) John Keats
 (D) More than one of the above
 (E) None of the above



Directions (Q. No. 106 – 110) :

Read the passage below and answer the following questions.

The Taj Mahal has become one of the world's best known monuments. This domed white marble structure is situated on a high plinth at the southern end of four-quartered garden, evoking the gardens of paradise, enclosed within walls measuring 305 by 549 meters. Outside the walls, in an area known as Mumtazabad, were living quarters for attendants, markets, serais and other structures built by local merchants and nobles. The tomb complex and other imperial structures of Mumtazabad were maintained by the income of thirty villages given specifically for tomb's support.

The name Taj Mahal is unknown in Mughal chronicles, but it is used by contemporary Europeans in India, suggesting that this was the tomb's popular name. In contemporary






texts it is generally called simply the Illuminated Tomb (Rauza-i-Munawara). Mumtaz Mahal died shortly after delivering her fourteenth child in 1631. The Mughal court was then residing in Burhanpur. Her remains were temporarily buried by the grief-stricken emperor in a spacious garden known as Zainabad on the bank of the river Tapti. Six months later her body was transported to Agra where it was interred in land chosen for the mausoleum.

This land, situated, South of the Mughal city on the bank of the Jamuna, had belonged to the Kachhwaha rajas since the times of Raja Man Singh and was purchased from the then current Raja, Jai Singh. Although contemporary chronicles indicate Jai Singh's willing cooperation in this exchange, extant imperial commands indicate that the final price was not settled until almost two years after the mausoleum's commencement. Jai Singh's further cooperation was insured by imperial orders issued between 1632 and 1634 demanding that he provide stone masons and carts to transport marble from the mines from Makrana, within his 'ancestral domain', to Agra where both the Taj Mahal and Shah Jahan's additions to the Agra fort were constructed concurrently.

Work on the mausoleum was commenced early in 1632. Inscriptural evidence indicates much of tomb was completed by 1636. By 1643, when Shah Jahan most lavishly celebrated the 'Urs ceremony for Mumtaz Mahal', the entire complex was virtually complete.

- 106.** Point out the true statement from the following :
- I. Marble was not used for the construction of the Taj Mahal.
 - II. The name of the Taj Mahal is also Rauza-i-Munawara.
 - III. The Taj Mahal was completed by the time of the Urs ceremony for Mumtaz Mahal was held.
- (A) Only III
(B) Only I
(C) Only II
(D) More than one of the above
(E) None of the above



- 107.** In the contemporary texts the Taj Mahal is known as
- (A) Mumtaz Mahal 
 - (B) Mumtazabad 
 - (C) Rauza-i-Munawara
 - (D) More than one of the above
 - (E) None of the above
- 108.** The construction of the Taj Mahal was completed between the period
- (A) 1680 – 1690 A.D.
 - (B) 1620 – 1626 A.D.
 - (C) 1610 – 1616 A.D.
 - (D) More than one of the above
 - (E) None of the above
- 109.** Marble stone used for the construction of the Taj Mahal was brought from the ancestral domain of Raja Jai Singh. The name of the place where mines of marble were located is
- (A) Makrana
 - (B) Burhanpur 
 - (C) Amber
 - (D) More than one of the above
 - (E) None of the above
- 110.** The remains of Mumtaz Mahal were initially buried in
- (A) Delhi
 - (B) Moradabad
 - (C) Zainabad
 - (D) More than one of the above
 - (E) None of the above

Directions (Q. Nos. 111 – 115) :



Read the passage below and answer the following questions.

The popular view of towns and cities in developing countries of the urbanisation process is that the emergence of such cities connotes environmental degradation, generation of slums and squatters, urban,



poverty, unemployment, crimes, lawlessness, traffic chaos etc. But what is the reality ?

Given the unprecedented increase in urban population over the last 50 years from 30 million in 1950 to 2 billion in 2000 in developing countries, the wonder really is how well the world has coped and not how badly. In general the urban quality of life has improved in terms of availability of water and sanitation, power, health and education, communication and transport.

By way of illustration, a large number of urban residents have been provided with improved water in urban areas in Asia's largest countries such as China, India, Indonesia and Philippines. Despite that, the access to improved water in terms of percentage of total urban population seems to have declined during the last decade of 20th century, though in absolute numbers, millions of additional urbanites have been provided improved services.



These countries have made significant progress in provision of sanitation services too, together, providing for an additional population of more than 293 million citizens within a decade (1990-2000). These improvements must be viewed against the backdrop of rapidly increasing urban population, fiscal crunch and strained human resources and efficient and quality-oriented public management.

111. The reality of urbanisation is reflected in



- (A) how many novels have been written
- (B) the growth of the population in cities
- (C) how many villages have built community halls
- (D) More than one of the above
- (E) None of the above


112. The popular view about the process of urbanisation in developing countries is

- (A) negative 
- (B) positive 
- (C) neutral
- (D) More than one of the above
- (E) None of the above

113. The author in this passage has tried to focus on

- (A) village life
- (B) urbanisation and its challenges
- (C) human love
- (D) More than one of the above
- (E) None of the above

114. The average annual increase in the number of urbanites in developing countries, from AD 1950 to 2000 was close to

- (A) 4 million 
- (B) 3 million
- (C) 10 million
- (D) More than one of the above
- (E) None of the above

115. Which one of the following is **not** considered as an indicator of urban quality of life ?

- (A) Clean water
- (B) Sanitation facilities
- (C) Clean air
- (D) More than one of the above
- (E) None of the above

Directions (Q. Nos. 116 – 120) :



Read the passage below and answer the following questions.

Storytelling is not in our genes. Neither is it an evolutionary history. It is the essence of what makes us human. Human beings progress



by telling stories. One event can result in a great variety of stories being told about it. Sometimes, those stories differ greatly. Which stories are picked up and repeated and which ones are dropped and forgotten often determines how we progress.

Our history, knowledge and understanding are all the collections of the few stories that survive.

This includes the stories that we tell each other about the future. And how the future will turn out depends partly, possibly largely, on which stories we collectively choose to believe. Some stories are designed to spread fear and concern. This is because some storytellers feel that there is a need to raise some tensions.

Some stories are frightening, they are like totemic warnings. Fail to act now and we are all doomed. Then, there are stories that indicate that all will be fine so long as we leave everything up to a few especially able adults. Currently, this trend is being led by those who call themselves 'rational optimists'. They tend to claim that it is human nature to compete and succeed and also to profit at the expense of others. The rational optimists however, do not realise, how humanity progressed overtime through amiable social networks and how large groups work in less selfishness and in the process accommodate rich and poor, high and low alike. This aspect in storytelling is considered by the 'Practical Possibilities', who sit between those who say all is fine and cheerful and be individualistic in your approach to a successful future and those who ordain pessimism and fear that we are doomed.

- 116.** Storytelling is
- (A) in not in our genes
 - (B) an ancient practice
 - (C) the essence of what makes us human
 - (D) More than one of the above
 - (E) None of the above



- 117.** Humans become less selfish when
- (A) they listen to frightening stories
 - (B) they work in large groups
 - (C) they work in solitude
 - (D) More than one of the above
 - (E) None of the above



- 118.** Rational optimists
- (A) live in secluded catles
 - (B) don't think about the future at all
 - (C) think that the welfare of man should be left only to a few able adults
 - (D) More than one of the above
 - (E) None of the above



- 119.** Our knowledge is a collection of
- (A) some stories that we forget
 - (B) no stories that we have heard during our life-time
 - (C) a few stories that survive
 - (D) More than one of the above
 - (E) None of the above



- 120.** How the future will turn out to be, depends upon the stories ...
- (A) Which are repeatedly narrated
 - (B) We collectively choose to believe in
 - (C) Designed to spread fear and tension
 - (D) More than one of the above
 - (E) None of the above



Directions (Q. Nos. 121 – 125) :

Read the passage below and answer the following questions.

One of the findings of the research into successful leadership is the fact that respect is always a two-way street. No matter how powerful you are, no matter what your experience, skills, and accomplishments, you will not be respected by others if you consistently treat them disrespectfully. Friendliness-that is, treating others politely and showing interest in them is a way of showing your respect for other people in return they respect you. If as a manager you are respected, preventive maintenance strategy will be accepted as a sincere attempt to resolve problems rather than mean spirited attempt to cause problems.


As important as friendliness is, I want to make sure you are no mislead into believing that friendliness will replace or correct poor management. I have seen effective managers who did not use this friendliness element but could have been more effective if they did use it. I have seen very friendly managers who were ineffective because they were not doing effective management things. In other words, managers who intervene effectively in a friendly way are always more effective than managers who intervene effectively in a non-friendly way. Maintaining a friendly relationship is another part of maintaining work performance. It is helps you avoid having people try to hurt you because they do not like you. It might save your life.

121. The author feels only friendliness can replace or correct poor management.




- (A) The statement is false
- (B) The statement is true
- (C) The author is ambiguous about the subject
- (D) More than one of the above
- (E) None of the above

122. The author feels that respect is

- (A) a one way street 
- (B) not possible
- (C) a two way street
- (D) More than one of the above
- (E) None of the above


123. The passage suggests that people try to hurt you when

- (A) When they do not like you
- (B) You are friendly to them
- (C) When they become good managers
- (D) More than one of the above
- (E) None of the above 

124. When will preventive maintenance strategy be accepted ?

- (A) When it is seen as a sincere attempt to resolve problems
- (B) When there is respect for the manager
- (C) When it is seen as a mean spirited gesture
- (D) More than one of the above
- (E) None of the above

125. The author feels that a good manager

- (A) Combines friendliness with other strategies of management
- (B) Uses only friendliness as a sole management criterion 
- (C) Hurts other people
- (D) More than one of the above
- (E) None of the above



Directions (Q. Nos. 126 – 130) : In these questions, look at the underlined part of the given sentence. Below the sentence are given three possible substitutions for the underlined part. If any of substitutions; (A), (B) or (C) is better than the underlined part, choose that substitution as your response. If more than one the substitutions improve the sentence, choose (D). If none of the suggestions improve the sentence choose (E).

126. You must carry on my order



- (A) Carry out
- (B) Carry off
- (C) Carry of
- (D) More than one of the above
- (E) None of the above

127. The poor villagers have waited in the bitter cold for more than four hours now.

- (A) had been waited
- (B) has been waiting
- (C) have been waiting
- (D) More than one of the above
- (E) None of the above

128. He was extremely unhappy because of the inordinately delay.

- (A) the inordinating delaying
- (B) the inordinates delay
- (C) the inordinate delay
- (D) More than one of the above
- (E) None of the above

129. The two thieves sold the loot to a merchant.



- (A) Sale the loot
- (B) Selling the loot
- (C) Sell looting
- (D) More than one of the above
- (E) None of the above

130. Newton wanted to know why did the apple fall to the ground.

- (A) Know why the apple fell
- (B) Know that why did the apple fall
- (C) Know that why the apple fell
- (D) More than one of the above
- (E) None of the above



Directions (Q. Nos. 131 – 135) :

Indicate the correct meaning of the following idioms from the options given :

131. To leave no stone unturned

- (A) To try one's utmost
- (B) To keep clean and tidy
- (C) To change the things
- (D) More than one of the above
- (E) None of the above

132. To smell a rat

- (A) To misunderstand
- (B) To smell bad odour
- (C) To suspect a trick or deceit
- (D) More than one of the above
- (E) None of the above

133. Sitting on the fence


- (A) Coward
- (B) Unbalanced
- (C) Between two opinions
- (D) More than one of the above
- (E) None of the above



134. To wash dirty linen in public

- (A) To clean solid linen
- (B) To quarrel openly
- (C) To wash dirty clothes
- (D) More than one of the above
- (E) None of the above




135. Between the devil and the deep sea
(A) To be evil tempered
(B) A deep sea diver
(C) In a dilemma
 (D) More than one of the above
(E) None of the above


Directions (Q. Nos. 136 – 140) : In the following questions, choose the correct preposition from the given alternatives.

136. I am proud _____ the way in which my students have performed.
(A) in
(B) by
(C) to
(D) More than one of the above
(E) None of the above

137. The train was travelling from Howrah _____ New Delhi.
(A) in
(B) to
(C) into
(D) More than one of the above
(E) None of the above


138. Beware _____ pickpockets in crowded trains.
 (A) from
(B) to
(C) of
(D) More than one of the above
(E) None of the above

139. Raju killed the snake _____ a stick.
(A) by
(B) in
(C) with
(D) More than one of the above
(E) None of the above

140. The doctor had asked him to abstain _____ sweets because he had diabetes.
(A) of
(B) from
(C) in 
(D) More than one of the above
(E) None of the above

Directions (Q. Nos. 141 – 145) :

In this section each sentence consists of a word or a phrase which is underlined. Select the word or phrase which is closely opposite in meaning to the underlined word or phrase :

141. The general did not divulge the secret.
(A) rebel
(B) reveal
(C) conceal 
(D) More than one of the above
(E) None of the above



142. He glanced through the letter perfunctorily.
 (A) Ceremoniously
 (B) Poorly
 (C) Carefully
 (D) More than one of the above
 (E) None of the above



143. He was exhausted by the efforts on the field.
 (A) fatigued
 (B) tired
 (C) broken
 (D) More than one of the above
 (E) None of the above

144. The man was reprimanded by his family for stealing.
 (A) abused
 (B) scolded
 (C) praised
 (D) More than one of the above
 (E) None of the above

145. The speaker had a superficial knowledge of the subject.
 (A) Deep
 (B) Artificial
 (C) Neutral
 (D) More than one of the above
 (E) None of the above



Directions (Q. Nos. 146 – 150) : Read each sentence to find out whether there is any error in it. The error, if any, will be in one part of the sentence. The alphabet number of that part is the answer. If there is an error in more than one part then the answer is (D). If there is no error in any part then the answer is (E).



146. Bangladesh exports a lot of garment (A)/ to the Western countries (B)/ at a cheap rates. (C)/ more than one of the above (D) /none of the above (E)

147. It was evident (A)/ to me that there was any mistake (B)/ in that account. (C)/ more than one of the above (D)/none of the above (E)

148. The conference was (A)/ attending by some very (B)/ distinguished speakers. (C) / more than one of the above (D)/ none of the above (E)

149. This is one of the most (A)/ interesting book (B)/ I have ever read. (C)/ more than one of the above (D)/ none of the above (E)



150. No monument in the world (A)/ is so beautifully (B)/ as the Taj Mahal of Agra. (C)/ more than one of the above (D) / none of the above (E)



SPACE FOR ROUGH WORK / रफ़ कार्य के लिए स्थान





11/MIV/M-2024-01

उम्मीदवार का अनुक्रमांक

--	--	--	--	--	--

पुस्तिका शृंखला



प्रश्न-पुस्तिका

भाषा, सामान्य अध्ययन और अंग्रेजी

समय : 2:30 घण्टे

पूर्णांक : 150

प्रश्नों के उत्तर देने से पहले नीचे लिखे अनुदेशों को ध्यान से पढ़ लें।

महत्त्वपूर्ण अनुदेश

1. यह प्रश्न-पुस्तिका तीन भागों में विभाजित है — भाग - I, भाग - II एवं भाग - III। भाग - I में भाषा (अर्हता) के प्रश्न हैं, भाग - II में सामान्य अध्ययन के प्रश्न हैं तथा भाग - III में अंग्रेजी के प्रश्न हैं।
2. भाग - I, भाषा (अर्हता) में प्रश्न संख्या 1 से 30 तक प्रश्न हैं। भाग - I में अंग्रेजी भाषा में प्रश्न संख्या E-1 से E-8 तक (सभी के लिए समान), हिन्दी भाषा में प्रश्न संख्या H-9 से H-30 तक, उर्दू भाषा में प्रश्न संख्या U-9 से U-30 तक तथा बांग्ला भाषा में प्रश्न संख्या B-9 से B-30 तक हैं (अभ्यर्थी को तीन भाषाओं में से किसी एक भाषा के प्रश्न चुनने हैं)। भाग - II में प्रश्न संख्या 31 से 70 (प्रश्न और उनके उत्तर अंग्रेजी एवं हिन्दी में मुद्रित हैं) तथा भाग - III में प्रश्न संख्या 71 से 150 तक हैं।
3. सभी प्रश्नों के अंक समान हैं।
4. प्रश्नों के उत्तर देने के लिए आपको उत्तर पत्रक प्रश्न पुस्तिका के अन्दर दिया गया है। अपने उत्तर पत्रक के निर्धारित स्थान में अपना अनुक्रमांक लिखें एवं कूटबद्ध करें तथा अन्य विवरण अवश्य लिखें अन्यथा आपका उत्तर पत्रक जाँचा नहीं जायेगा।
5. परीक्षा आरम्भ होते ही आप अपनी प्रश्न-पुस्तिका एवं संलग्न उत्तर पुस्तिका की जाँच कर देख लें कि प्रश्न-पुस्तिका के ऊपर दायीं ओर मुद्रित शृंखला एवं उत्तर पुस्तिका पर मुद्रित शृंखला समान है। कृपया यह भी जाँच लें कि पुस्तिका में रफ कार्य हेतु एक पृष्ठ (पृष्ठ सं. 39) सहित पूरे 40 मुद्रित पृष्ठ हैं और कोई प्रश्न या पृष्ठ बिना छपा हुआ या फटा हुआ या दोबारा आया हुआ या प्रश्न पुस्तिका एवं उत्तर पुस्तिका में मुद्रित शृंखला में अन्तर तो नहीं है। पुस्तिका एवं संलग्न उत्तर पुस्तिका में किसी प्रकार की त्रुटि पाने पर तत्काल इसके बदले इसी शृंखला की दूसरी सही पुस्तिका एवं ओ.एम.आर. पत्रिका ले लें।
6. इस पृष्ठ के ऊपर निर्धारित स्थान में अपना अनुक्रमांक अवश्य लिखें। प्रश्न-पुस्तिका पर और कुछ न लिखें।
7. प्रत्येक प्रश्न के पाँच उत्तर — (A), (B), (C), (D) और (E) क्रम पर दिये गये हैं। उनमें से आप सबसे सही केवल एक उत्तर को चुनें और अपने उत्तर पत्रक पर अंकित करें। आपका कुल प्राप्तांक आपके द्वारा उत्तर पत्रक में अंकित सही उत्तरों पर निर्भर करेगा।
8. उत्तर पत्रक में प्रत्येक प्रश्न संख्या के सामने पाँच वृत्त इस प्रकार बने हुए हैं — (A), (B), (C), (D) और (E)। प्रश्नों के उत्तर देने के लिए आपको अपनी पसन्द के केवल एक वृत्त को काली/नीली स्याही के बॉल-पॉइन्ट पेन से चिह्नित करना है। प्रत्येक प्रश्न के लिए केवल एक उत्तर को चुनें और उसे अपने उत्तर पत्रक में चिह्नित करें। आप उत्तर पत्रक में यदि एक प्रश्न के लिए एक से अधिक वृत्त में निशान लगाते हैं, तो आपका उत्तर गलत माना जायेगा। उत्तर पत्रक में उत्तर को चिह्नित करने के लिए केवल काली/नीली स्याही के बॉल-पॉइन्ट पेन का ही प्रयोग करें। किसी भी प्रकार का काट-कूट अथवा परिवर्तन मान्य नहीं है।
9. यदि किसी प्रश्न में किसी प्रकार की कोई मुद्रण या तथ्यात्मक प्रकार की त्रुटि हो, तो प्रश्नों के अंग्रेजी तथा हिन्दी रूपान्तरों में से अंग्रेजी रूपान्तर को मानक माना जायेगा।
10. प्रश्न-पुस्तिका से कोई पन्ना फाड़ना या अलग करना मना है। प्रश्न-पुस्तिका और उत्तर पत्रक को परीक्षा अवधि में परीक्षा भवन से बाहर कदापि न ले जायें। परीक्षा के समापन पर उत्तर पत्रक वीक्षक को अवश्य सौंप दें। उसके बाद आपको अपनी प्रश्न-पुस्तिका अपने साथ ले जाने की अनुमति है।
11. ऊपर के अनुदेशों में से किसी एक का भी पालन नहीं करने पर आप पर आयोग के विवेकानुसार कार्रवाई की जा सकती है अथवा आपको दण्ड दिया जा सकता है।
12. अभ्यर्थी उत्तर पत्रक को अपनी उपस्थिति में Self Adhesive LDPE Bag में पूरी तरह से पैक/सील करवाने के उपरांत ही परीक्षा कक्ष को छोड़ें।

Note : English version of the instructions is printed on the First Page of this Booklet.